

Mleko, soki, ocet, benzyna to ciecze. Ilość cieczy mierzymy w litrach. Litr to jednostka pojemności. Jeden litr zapisujemy: 1 l.




W tym kartonie jest 1 l soku,

a w butelce 1 l wody.



Odczytaj, ile litrów cieczy jest w pojemnikach.



Mama kupiła:

- ▶ płyn do kąpieli w pojemniku 5-litrowym,
- ▶ płyn do płukania w pojemniku 4-litrowym,
- ▶ dwa płyny do mycia naczyń w pojemnikach 2-litrowych.

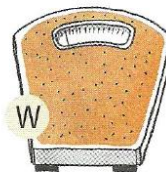
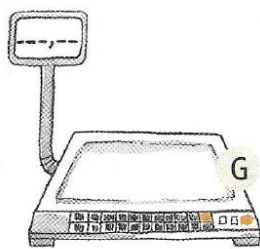
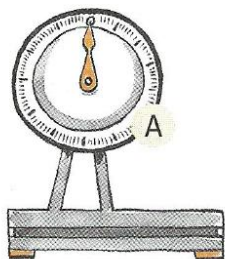
Ile litrów płynów kupiła mama?



**Obliczenie:** .....

**Odpowiedź:** .....

Do ważenia artykułów spożywczych, przedmiotów, ludzi służą wagi.



Hasło:

Którą wagę możesz zobaczyć w łazience?

Którą wagę możesz zobaczyć w poczcie?

Którą wagę możesz zobaczyć w sklepie?

Którą wagę możesz zobaczyć na targu?

Wagę towaru najczęściej podaje się w:

kilogramach

dekagramach


gramach

kg

dag

g

Odczytaj i zapisz wagę.



Powodzenia.