









1. Dorysuj brakujące pomidory. Oblicz.

$10 + 5 =$	$15 - 5 =$
	
$10 + 3 =$	$13 - 3 =$
	
$10 + 2 =$	$12 - 2 =$
	
$10 + 4 =$	$14 - 4 =$
	

2. Wpisz znaki: <, >, =.

1 < 2	4 < 5	10 < 12
3 > 2	6 = 6	16 > 15

3. Wykonaj odejmowanie:

$19 - 9 =$ <input type="text"/>	$13 - 10 =$ <input type="text"/>	$13 - 3 =$ <input type="text"/>
$16 - 10 =$ <input type="text"/>	$18 - 8 =$ <input type="text"/>	$16 - 6 =$ <input type="text"/>

Powodzenia.