

Środa, 20.05

Nazwy zawodów

**Wpisz nazwy zawodów. Ciekawe, czy zgadniesz, co jest na trzecim obrazku.
Możesz poprosić rodziców o pomoc.**



Wpisz nazwy przedmiotów



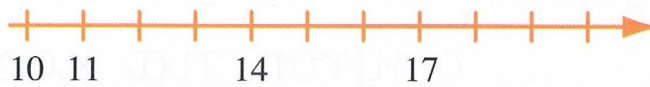






Rozwiąż zadania

Kolejność liczb, porównywanie liczb w zakresie 20

1. Uzupełnij brakujące liczby na osiach.



2. Gdzie jest więcej? Gdzie jest mniej? Gdzie jest tyle samo?
Wstaw odpowiednie liczby i znaki =, >, <.



15 12

