

Witajcie moi kochani. Kolejny tydzień pracy przed nami. Mam nadzieję, że przez weekend majowy się nie rozleniwiliście i z chęcią przystąpicie do pracy. Bardzo chciałabym się z Wami spotkać, zobaczyć jak wyglądacie, jak się czujecie. Wierzę, że Wy też tęsknicie za szkołą i za sobą.



Poniedziałek 04.05.2020

W ramach komunikowania

Wejdźcie na poniższy link i kliknijcie przykłady od 7 do 12. Możecie zacząć od początku, ale ćwiczenia do 6 już robiliście.

<https://www.mauthor.com/present/5886888182546432>

W ramach zajęć pozalekcyjnych

Adam i Jakub zagrajcie w domino online

<https://www.gry.pl/gra/domino-deluxe>

Maja i Oskar ułóżcie puzzle online

<https://puzzlefactory.pl/pl/puzzle/graj/dla-dzieci/166239-pingwiny-z-madagaskaru>



Wtorek 05.05.2020

W ramach funkcjonowania

Przed weekendem majowym rozmawialiśmy sobie na temat sklepów i zakupów. Dzisiaj porozmawiamy o środkach płatniczych.

Za zakupy zrobione w sklepie należy zapłacić. W różnych krajach na świecie są różne pieniądze. W wielu krajach europejskich wprowadzono jednakową walutę EURO. Pewnie niektórzy z Was słyszeli o EURO, my porozmawiamy sobie o tym jak jest u nas.

W naszym kraju czyli w Polsce za zakupy płacimy złotówkami.

Mamy pieniądze papierowe, które nazywamy **banknotami**



Mamy też pieniądze metalowe, które nazywamy **bilonami lub monetami**



Przyjrzyj się karcie 37 JA POZA DOMEM

Za zakupy można też zapłacić **kartą płatniczą**. Teraz w okresie pandemii płacenie kartą jest zalecane. Na pewno wasi rodzice posiadają takie karty. Poproś mamę lub tatę, aby Ci pokazał.

Poniżej przykłady kart płatniczych.



Kartą płatniczą płacimy za zakupy i wypłacamy nią pieniądze z bankomatu.

Wykonaj kartę 38 w podręczniku JA POZA DOMEM.

W ramach drugiej godziny

Dla **Majki i Oskara** wykonajcie po 10 przykładów

https://www.matzoo.pl/klasa2/polozenie_63_325

Dla **Jakuba i Adama** wejdź na poniższy link i wykonaj zadania (10 przykładów)

<https://szaloniczby.pl/liczenie-pieniedzy/>

Rozwiąż sudoku – monety

Sudoku - money!

| | | | | | |
|-----|-----|-----|-----|-----|-----|
| | 10c | 5c | 20c | 50c | |
| 10c | | 20c | | 1c | 10c |
| 2c | 5c | | 10c | 20c | |
| 20c | 10c | | 2c | 5c | 1c |
| 10c | | 50c | | | 5c |
| | 1c | 2c | 10c | | 50c |

© printstek.pl

| | | | | | |
|----|----|-----|-----|----|-----|
| 1c | 5c | 20c | 1c | 1c | 5c |
| 2c | 2c | 10c | 10c | 2c | 50c |



Środa 06.05.2020

W ramach komunikowania

Przeczytaj poniższy dialog w sklepie i odpowiedź na pytania.

- Dzień dobry. Czy jest już świeże pieczywo?
- Witam. Oczywiście - jest ciepły chleb i bułeczki. Czy coś podać?
- Poproszę w takim razie jeden mały chleb i pięć bułeczek ze słonecznikiem.
- Proszę bardzo. Czy coś jeszcze Pan sobie życzy?
- Zapomniałbym. Jeszcze masło i mleko, ale tylko półprocentowe.
- Przykro mi. Mleko jest tylko dwuprocentowe.
- W takim razie poproszę tylko masło. Czy jeszcze dzisiaj będzie dostawa mleka?
- Niestety nie. Czy jeszcze coś podać?
- Dziękuję. Ile płacę?
- Siedem złotych i 40 groszy.
- Proszę.
- Oto reszta. Zapraszam ponownie i życzę miłego dnia.
- Dziękuję i do widzenia

1. Kto przyszedł na zakupy pan czy pani?

2. Do jakiego sklepu przyszedł klient:

- a) do obuwniczego
- b) do spożywczego
- c) do warzywniaka

3. Ile bułek kupił?

4. O jakie mleko poprosił? Czy takie było?

5. Ile zapłacił za zakupy?

W ramach funkcjonowania

Wykonaj kartę pracy 39 i 40 w podręczniku JA POZA DOMEM.

Wytnij obrazki, ułóż w odpowiedniej kolejności. Wklej do zeszytu wraz z odpowiednimi podpisami.



Czwartek 07.05.2020

W ramach funkcjonowania

Dzisiaj porozwiązujemy sobie zadania matematyczne

Dla Jakuba i Adama

Zakupy w supermarkecie

Mama zrobiła zakupy w supermarkecie w poniedziałek, w środę i w piątek. Za każdym razem dawała kasjerce banknot o wartości 50 zł. Spójrz na rachunki z tych trzech dni i oblicz, ile reszty za każdym razem kasjerka wydała mamie.



PONIEDZIAŁEK




RACHUNEK

RAZEM:
37 zł



RESZTA:

ŚRODA




RACHUNEK

RAZEM:
25 zł



RESZTA:

PIĄTEK



RACHUNEK

RAZEM:
48 zł



RESZTA:

Zakupy w supermarkecie

Mama zrobiła zakupy w supermarkecie w poniedziałek, w środę i w piątek. Za każdym razem dawała kasjerce banknot o wartości 50 zł. Spójrz na rachunki z tych trzech dni i oblicz, ile reszty za każdym razem kasjerka wydała mamie.



PONIEDZIAŁEK




RACHUNEK

RAZEM:
37 zł



RESZTA:

ŚRODA




RACHUNEK

RAZEM:
25 zł



RESZTA:

PIĄTEK



RACHUNEK


RAZEM:
48 zł



RESZTA:


Dla Majki i Oskara

Patryk miał 19 zł. Kupił piłkę nożną za 9 zł i latawiec za 3 zł. Ile pieniędzy zostało Patrykowi?



Odp. Patrykowi zostało zł.

Magda miała w skarbonce 4 zł. Mama wrzuciła do jej skarbonki 7 zł. Ile pieniędzy ma teraz Magda w skarbonce?





Odp. Magda ma zł.

Napisz działania. Oblicz wyniki.



$8 \text{ zł} + 3 \text{ zł} = \dots\dots\dots \text{zł}$



Dla Adama i Jakuba









Liczymy pieniądze

1 grosz = 1 gr

1 złoty = 1 zł

1 zł = 100 gr

Oblicz:

| | | | | | | | | | | | | | | | | | | | | | | | | | | | | | | | | | | | | | | | | | | | | | | | | | | | | | | | | | | | | | | | | | | | | | | | | | | | | | | | | | | | | | |
|--|--|---|---|---|--|--|--|--|--|--|--|--|--|--|--|--|--|--|--|--|--|--|--|--|--|--|--|--|--|--|--|--|--|--|--|--|--|--|--|--|--|--|--|--|---|--|--|--|--|--|--|--|--|--|--|--|--|--|--|--|--|--|--|--|--|--|--|--|--|--|--|--|--|--|--|--|--|--|--|--|--|--|--|--|--|
|  |  | $10 + 1 = \dots\dots$ |  |  | <table border="1" data-bbox="1058 887 1390 965"><tr><td></td><td></td><td></td><td></td><td></td><td></td><td></td><td></td><td></td><td></td><td></td><td></td><td></td><td></td><td></td><td></td><td></td><td></td><td></td><td></td></tr><tr><td></td><td></td><td></td><td></td><td></td><td></td><td></td><td></td><td></td><td></td><td></td><td></td><td></td><td></td><td></td><td></td><td></td><td></td><td></td><td></td></tr></table> | | | | | | | | | | | | | | | | | | | | | | | | | | | | | | | | | | | | | | | | | | | | | | | | | | | | | | | | | | | | | | | | | | | | | | | | | | | | | | | | |
| | | | | | | | | | | | | | | | | | | | | | | | | | | | | | | | | | | | | | | | | | | | | | | | | | | | | | | | | | | | | | | | | | | | | | | | | | | | | | | | | | | | | | |
| | | | | | | | | | | | | | | | | | | | | | | | | | | | | | | | | | | | | | | | | | | | | | | | | | | | | | | | | | | | | | | | | | | | | | | | | | | | | | | | | | | | | | |
|  |  | <table border="1" data-bbox="421 999 753 1077"><tr><td></td><td></td><td></td><td></td><td></td><td></td><td></td><td></td><td></td><td></td><td></td><td></td><td></td><td></td><td></td><td></td><td></td><td></td><td></td><td></td></tr><tr><td></td><td></td><td></td><td></td><td></td><td></td><td></td><td></td><td></td><td></td><td></td><td></td><td></td><td></td><td></td><td></td><td></td><td></td><td></td><td></td></tr></table> | | | | | | | | | | | | | | | | | | | | | | | | | | | | | | | | | | | | | | | | |  |  | <table border="1" data-bbox="1058 999 1390 1077"><tr><td></td><td></td><td></td><td></td><td></td><td></td><td></td><td></td><td></td><td></td><td></td><td></td><td></td><td></td><td></td><td></td><td></td><td></td><td></td><td></td></tr><tr><td></td><td></td><td></td><td></td><td></td><td></td><td></td><td></td><td></td><td></td><td></td><td></td><td></td><td></td><td></td><td></td><td></td><td></td><td></td><td></td></tr></table> | | | | | | | | | | | | | | | | | | | | | | | | | | | | | | | | | | | | | | | | |
| | | | | | | | | | | | | | | | | | | | | | | | | | | | | | | | | | | | | | | | | | | | | | | | | | | | | | | | | | | | | | | | | | | | | | | | | | | | | | | | | | | | | | |
| | | | | | | | | | | | | | | | | | | | | | | | | | | | | | | | | | | | | | | | | | | | | | | | | | | | | | | | | | | | | | | | | | | | | | | | | | | | | | | | | | | | | | |
| | | | | | | | | | | | | | | | | | | | | | | | | | | | | | | | | | | | | | | | | | | | | | | | | | | | | | | | | | | | | | | | | | | | | | | | | | | | | | | | | | | | | | |
| | | | | | | | | | | | | | | | | | | | | | | | | | | | | | | | | | | | | | | | | | | | | | | | | | | | | | | | | | | | | | | | | | | | | | | | | | | | | | | | | | | | | | |

Krzysz kupił za 17 groszy ciastko truskawkowe. Zapisz, jakimi monetami można zapłacić za ciastko, by kasjer nie musiał wydawać reszty.

17 gr = ○ ○ ○

17 gr = ○ ○ ○ ○

17 gr = ○ ○ ○ ○ ○

17 gr = ○ ○ ○ ○ ○ ○ ○ ○ ○ ○

17 gr = ○ ○ ○ ○ ○

17 gr = ○ ○ ○ ○ ○ ○ ○

Piątek 08.05.2020

W ramach funkcjonowania

Dzisiaj powiemy sobie czego nie wolno robić w sklepie.
Najpierw przypomnijmy sobie jak należy się zachować.

Oto kilka cennych wskazówek :

1. Kiedy się wchodzi do sklepu, należy przywitać się ze sprzedawcą (chyba, że to hipermarket).
2. Spacerując z koszykiem po markecie, starajmy się więc trzymać prawej strony - tak jest przyjęte.
3. Nie wolno otwierać i częstować się żadnymi produktami (chyba, że jest to produkt przeznaczony do degustacji).
4. Szanujemy obecność innych, rozmawiamy cicho, nie krzyczymy, nie śmiejemy się.
5. Okazujemy szacunek kasjerom i pracownikom sklepu.

Przyjrzyjcie się ilustracjom – karta pracy 44 w podręczniku JA POZA DOMEM.

Czego nie wolno robić w sklepie:

- **nie wolno jeść produktów ze sklepu**
- **nie wolno biegać po sklepie**
- **nie wolno kraść**
- **nie wolno rozrzucać produktów**

Wykonaj kartę pracy 44 w podręczniku JA POZA DOMEM. Wytnij ilustracje, dołącz do nich etykiety i wklej do zeszytu.

W ramach drugiej godziny

Majka i Oskar – wykonaj kartę pracy – co można kupić w sklepie papierniczym.

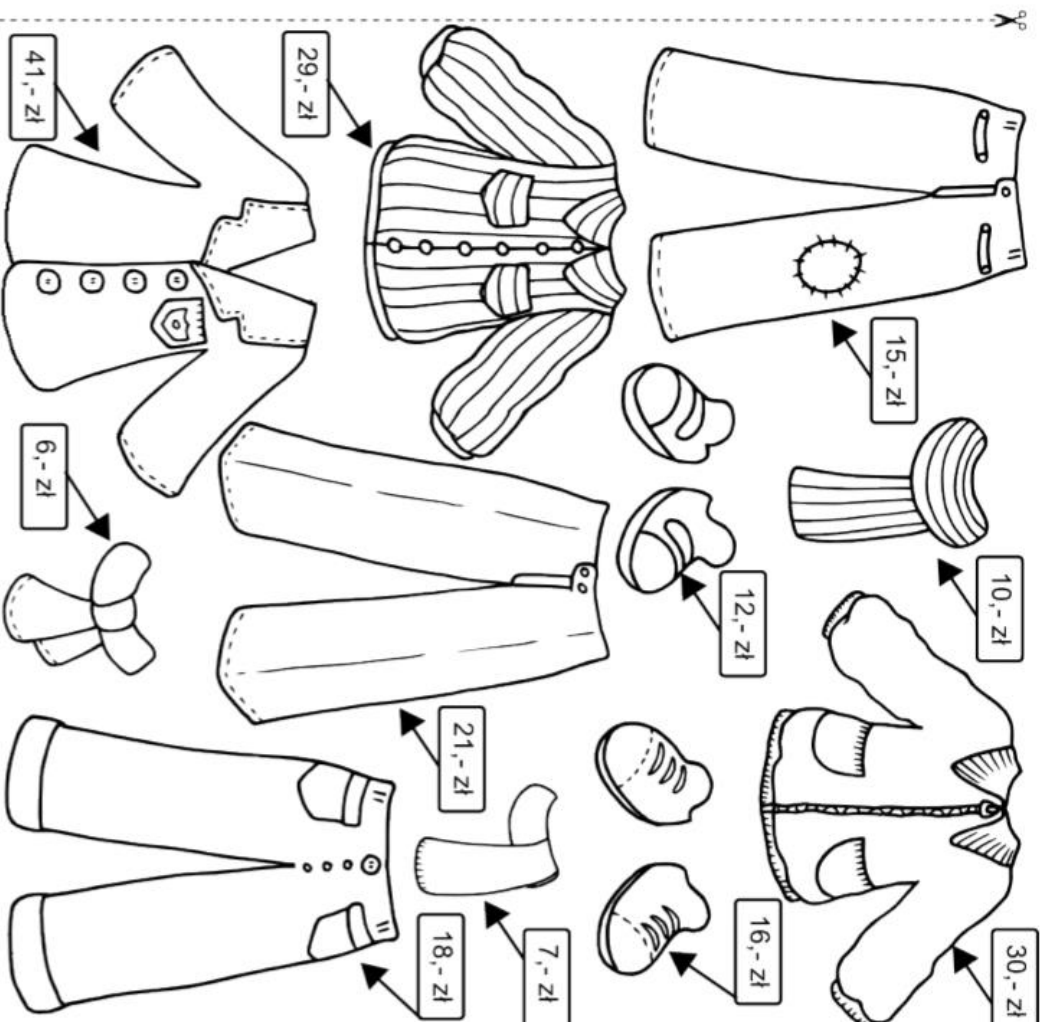
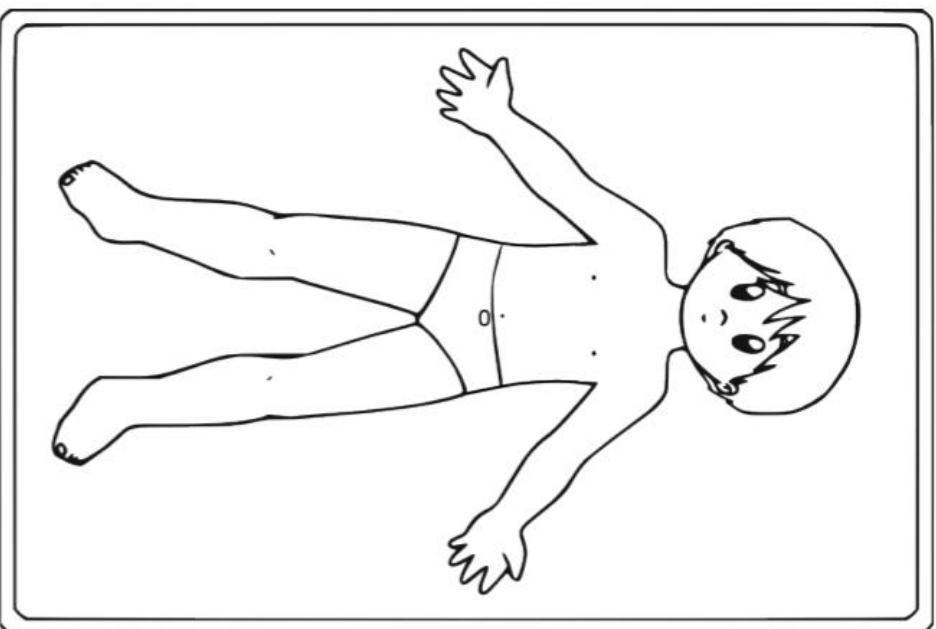
Adam i Jakub – wykonaj kartę pracy – ubieramy chłopca.

Poproszę o jedno zdjęcie w tygodniu dowolnego zadania.



Ubieramy chłopca 😊

Pokoloruj części garderoby, wtnij je, a następnie - przyklejając je - ubierz chłopca tak, aby nie przekroczyć kwoty 64 złotych.



Napisz i połącz

linijka

ekierka

kreaki

blok rysunkowy

sklep papierniczy

pani sprzedawczyni

