







**Temat: Ćwiczenia pieniężne. Określanie wielkości liczb – o 1 większej i o 1 mniejszej. 8.05**

Nauczyciel: Renata Jakubowska

**1. Wpisz w okienka liczbę dziesiątek i jedności. Uzupełnij łączną wartość pieniędzy.**

Dziesiątki	Jedności	Dziesiątki	Jedności
			
<input style="width: 40px; height: 30px;" type="text"/>	<input style="width: 40px; height: 30px;" type="text"/>	<input style="width: 40px; height: 30px;" type="text"/>	<input style="width: 40px; height: 30px;" type="text"/>
<input style="width: 60px; height: 30px;" type="text"/> zł		<input style="width: 60px; height: 30px;" type="text"/> zł	











Dziesiątki	Jedności
	
<input style="width: 40px; height: 30px;" type="text"/>	<input style="width: 40px; height: 30px;" type="text"/>
<input style="width: 60px; height: 30px;" type="text"/> zł	

**2. Zaznacz odpowiednią liczbę banknotów i monet.**

58


5

8

83






3. Wpisz w okienka liczbę o 1 mniejszą od podanej. Pomoże ci w tym kwadrat liczbowy.

1	2	3	4	5	6	7	8	9	10
11	12	13	14	15	16	17	18	19	20
21	22	23	24	25	26	27	28	29	30
31	32	33	34	35	36	37	38	39	40
41	42	43	44	45	46	47	48	49	50
51	52	53	54	55	56	57	58	59	60
61	62	63	34	65	66	67	68	69	70
71	72	73	74	75	76	77	78	79	80
81	82	83	84	85	86	87	88	89	90
91	92	93	94	95	96	97	98	99	100

<input type="text"/>	21
<input type="text"/>	34
<input type="text"/>	47
<input type="text"/>	59
<input type="text"/>	30
<input type="text"/>	50

<input type="text"/>	62
<input type="text"/>	76
<input type="text"/>	85
<input type="text"/>	98
<input type="text"/>	70
<input type="text"/>	90

4. Wpisz w okienka liczbę o 1 większą od podanej. Pomoże ci w tym kwadrat liczbowy.

1	2	3	4	5	6	7	8	9	10
11	12	13	14	15	16	17	18	19	20
21	22	23	24	25	26	27	28	29	30
31	32	33	34	35	36	37	38	39	40
41	42	43	44	45	46	47	48	49	50
51	52	53	54	55	56	57	58	59	60
61	62	63	34	65	66	67	68	69	70
71	72	73	74	75	76	77	78	79	80
81	82	83	84	85	86	87	88	89	90
91	92	93	94	95	96	97	98	99	100

31	<input type="text"/>
44	<input type="text"/>
60	<input type="text"/>
83	<input type="text"/>
88	<input type="text"/>
91	<input type="text"/>

29	<input type="text"/>
39	<input type="text"/>
49	<input type="text"/>
59	<input type="text"/>
79	<input type="text"/>
99	<input type="text"/>

\*Zadania pochodzą z programu Matematyka serii mTalent.